



Livret jeux

destiné aux enfants

pour une balade découverte
du village

Longueur du parcours : 2,5 km

Ecris ton nom ici :



Tom est anglais, il est perdu dans le village, tu vas l'aider à se retrouver.



1

Départ de la mairie

Sais-tu comment on appelle les habitants de Périers ?

Peux-tu situer les points cardinaux (Nord, Sud, Est, Ouest) sur cette carte ?
Tu peux t'aider d'une boussole avec le téléphone d'un adulte qui t'accompagne.

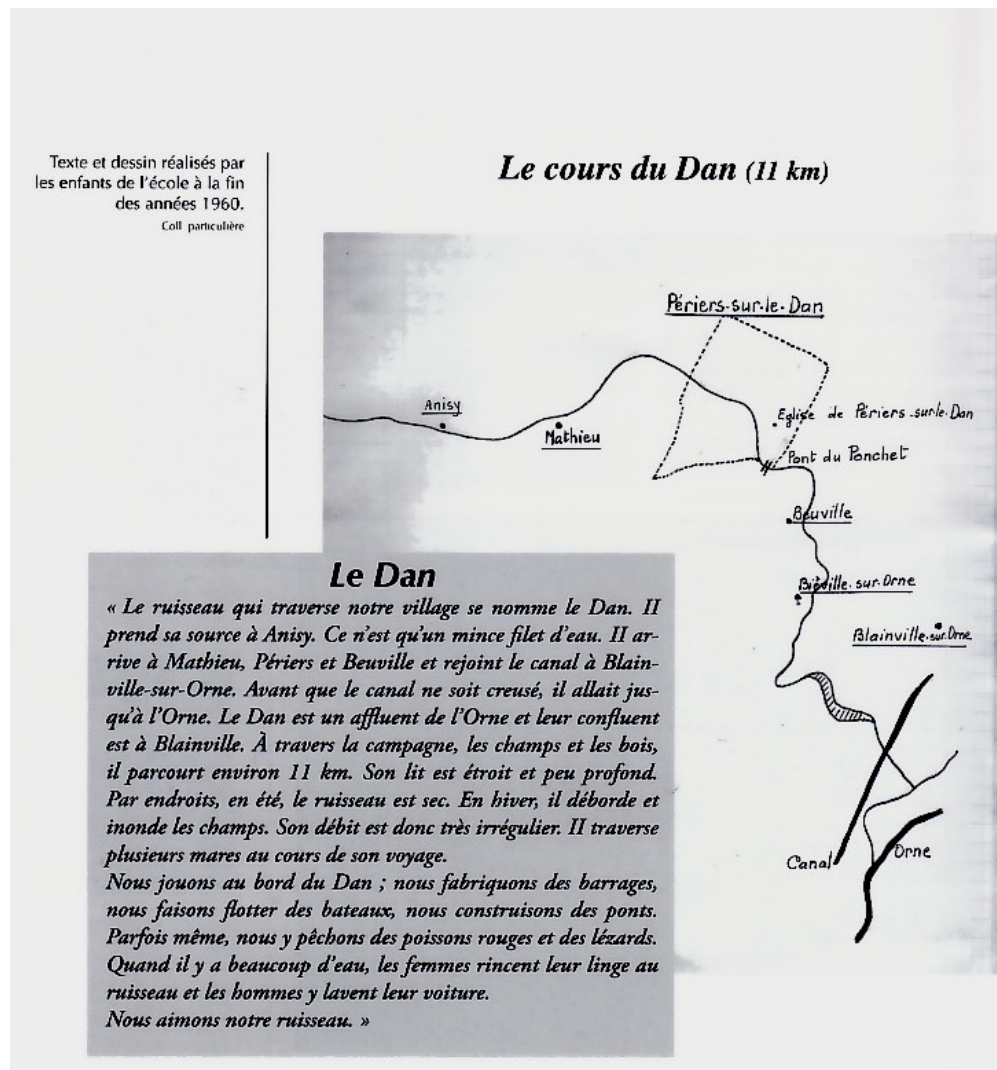
Cite trois noms de rues du village.

.....

Peux-tu donner à Tom le code postal de la commune pour qu'il puisse t'envoyer une lettre ?

Arrête-toi devant la mare, regarde d'où vient l'eau qui l'alimente.

Voici la carte du cours du Dan qui a été dessinée par des élèves en 1960, amuse-toi à lire le texte.



Devinette :

Deux canards se trouvent devant un canard, deux canards se trouvent derrière un canard et un canard est au milieu.

Combien de canards y a-t-il en tout ?

À l'aide de la carte postale ancienne fixée sur le mur, trouve le nom de la propriété.

De l'autre côté de la rue, au numéro 4, un monsieur a décoré sa maison avec plein de figurines. Combien y a-t-il de pingouins ?

3

Tourne à gauche dans la rue de la Grande Cour puis à droite et trouve cette autre carte postale ancienne. Qu'y avait-il dans cette maison autrefois ?



Prends la rue du Temple à droite pour retourner sur la route de Mathieu.

Continue sur la route de Mathieu vers la gauche et cherche ces graffiti très anciens qui ont été gravés sur les murs des maisons. Sauras-tu les retrouver ?



Entrée ferme trottoir de gauche




Mur trottoir de droite

4

Tourne à droite dans le chemin du fond du Vas.
Aperçois-tu le Dan à cet endroit ?
Tu peux faire une petite pause dans la nature.


Dessine toi aussi un graffiti, mais sur cette feuille, pas sur un mur !



Devinette

Quel objet se cache derrière ce rébus?
Un indice : Tom en a besoin chez lui autant que nous en Normandie !





Au bout du chemin, redescend à droite sur la route de Plumetot et au rond point trouve l'abribus et regarde toutes les cartes postales.

Comment appelle-t-on les poutres en bois qui décorent cet abribus ?

Traverse en faisant très attention et tu verras le Dan passer aussi à cet endroit.

Remonte au rond point et prend la Haute Rue à droite jusqu'au terrain communal où tu trouveras des jeux pour t'amuser et une table pour goûter.

Remarque en passant la boîte aux lettres qui ressemble à l'abribus (au n°8 de la Haute Rue).

Devinette

Monsieur et Madame Cauvert ont un fils. Comment s'appelle-t-il ?

Petit indice : c'est le nom d'un petit élève en sorcellerie que Tom connaît bien.



6

Poursuis ton chemin sur la Haute Rue, puis sur la route de l'Eglise .
Si tu as le courage, continue jusqu'à l'Eglise qui est en dehors du village, elle a des pierres disposées en arêtes de poisson. Sinon tu peux directement retourner à la mairie.
Reviens sur tes pas et arrête-toi devant le château en face de l'allée de marronniers. En fait, il s'agit d'un manoir.
Le Dan ici devient souterrain et il file vers le Ponchet (un lieu-dit).

En retournant vers la mairie, tu peux marcher entre le Dan et le grand mur derrière lequel se trouve un champ.



Est-ce que tu peux lire cette date gravée sur le mur, à côté de l'entrée de l'ancienne ferme ?

Pour Tom, c'est facile, sais-tu pourquoi ?

Qui a bien pu écrire cette date ?

Ecris la date en français sur la feuille.



Peux-tu dire où est le drapeau de Tom ?

Ecris à côté de chaque drapeau à quoi il correspond.

7

Tu as longé le Dan sur un sentier bordé d'arbres. Comment s'appellent-ils ?

Tom comprend ce qui est écrit sur la stèle, sais-tu pourquoi ?
Lis le texte écrit en français.



L'arbre que tu vois est un tulipier de Virginie, il a été planté par les enfants de l'école en 1989.
Que fêtait-on à cette date ? Que symbolise-t-il ?

Si tu entres dans la cour de la mairie, tu verras une cloche et encore des cartes postales anciennes. Peux-tu deviner ce qu'il y avait auparavant dans le bâtiment de la mairie ?


Blague

L'institutrice demande à un élève :

- Quand je dis "il pleuvait", de quel temps s'agit-il ?
- D'un sale temps, m'dame !

Aide Tom à connaître notre pays.

- 1 C'est le nom du village
- 2 La communauté urbaine (pense à la grande ville la plus proche)
- 3 Le département
- 4 La région
- 5 Notre pays
- 6 Notre pays est associé avec 27 états dans une Union, quel est son nom ?
- 7 Sur quelle planète vis-tu ?



BRAVO, tu as terminé, si tu veux connaître les réponses, envoie ton nom et ton adresse mail à : comitefetesperiers@gmail.com